

به نام خدا

ارزشیابی ریاضی

دبستان ترنج دانش

نام :

پایه دوم-ترم پایانی خردادماه(۱۴۰۰)

آموزگار: خانم گرامی

نام خانوادگی :

۱- پاسخ صحیح را با علامت (X) داخل مشخص کنید.

درست نادرست

❖ یک هشت ضلعی ۸ ضلع و گوشه دارد.

درست نادرست

❖ با رقم های ۳ و ۶ می توان دو عدد ساخت.

درست نادرست

❖ یک ربع همان ۱۵ دقیقه است.

درست نادرست

❖ عدد ۴۸ به ۴۰ نزدیک تر است.

درست نادرست

❖ عدد ۱۴۵ زوج است.

درست نادرست

❖ ده سکه ی ۱۰ ریالی برابر است با یک سکه ی صد ریالی.

درست نادرست

❖ در مستطیل همه ی ضلع ها با هم برابر است.

درست نادرست

❖ دو دسته ی ۳ تایی برابر است با ۹ تا

درست نادرست

❖ مثلث تقارن ۴ قسمتی دارد.

۲- در جای خالی عدد یا عبارت مناسب بنویس.

- در شکل های چند ضلعی به تعداد ضلع ها داریم.

- ۷ دسته ی ده تایی منهای ۳ دسته ی ده تایی می شود

- کوچکترین عدد سه رقمی می باشد.

- ۱ سانتی متر همان میلی متر است.

- ۴۵ میلی متر برابر است با سانتی متر و میلی متر.

- در دایره تعداد ضلع ها و تعداد گوشه ها می باشد.

۳- با سه کارت ۲ و ۱ و ۷ چند عدد سه رقمی می توان نوشت؟ عددها را نوشته و دور عددهای فرد

خط بسته بکشید.

۴- علامت < = > بگذار.

$$۲۲ \square ۱۰+۱+۱+۳+۲$$

$$۲۵۶ \square ۲۶۵$$

$$۳۷ \square ۳۶+۱$$

$$\underline{+۴۸}$$

۵- در شمارش ده تا ده تا هر عدد بین چه اعدادی قرار می گیرد و به کدام عدد نزدیک تر است؟

— ۶۱ بین و و به نزدیک تر است.

— ۹۸ بین و و به نزدیک تر است.

۶- جمع و تفریق های زیر را انجام دهی

به روش فرآیندی

به روش فرآیندی

به روش انتقالی

به روش انتقالی

$$۲۵۱$$

$$۸۷۸$$

$$۴۷۱$$

$$۷۱۵$$

$$\underline{+۴۳۸}$$

$$\underline{-۳۲۴}$$

$$\underline{+۳۹۹}$$

$$\underline{-۲۹۸}$$

جزوه سیپی

۷- عددی را پیدا کنید که اگر با ۴۶ جمع کنیم جواب ۷۸ می شود. (از هر روشی که دوست دارید پاسخ دهید.)

$$\square + ۴۶ = ۷۸$$

۸- ملیکا ۲۵۰ صفحه از یک کتاب را خوانده است. اگر کتاب ۴۳۰ صفحه داشته باشد. چند صفحه از کتاب باقی مانده است؟

۹- سپیده ۶ سال داشت که برادرش به دنیا آمد. حالا از آن زمان ۵ سال می گذرد. این خواهر و برادر


روی هم چند سال دارند؟

الف) برادر سپیده چندسال دارد؟

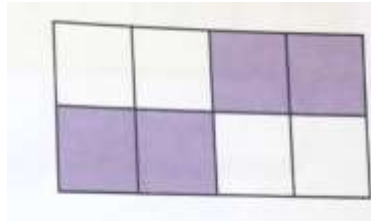
ب) سپیده چند سال دارد؟

ج) این دونفر چندسال دارند؟

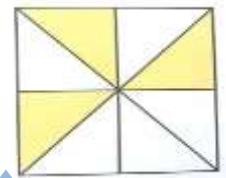
۱۰- جمله ها را با نوشتن عدد مناسب کامل کنید و نشان دهید چه بخشی از شکل رنگ شده است.



..... قسمت از قسمت




..... قسمت از قسمت



..... قسمت از قسمت

جزوه سیمی



..... قسمت از قسمت

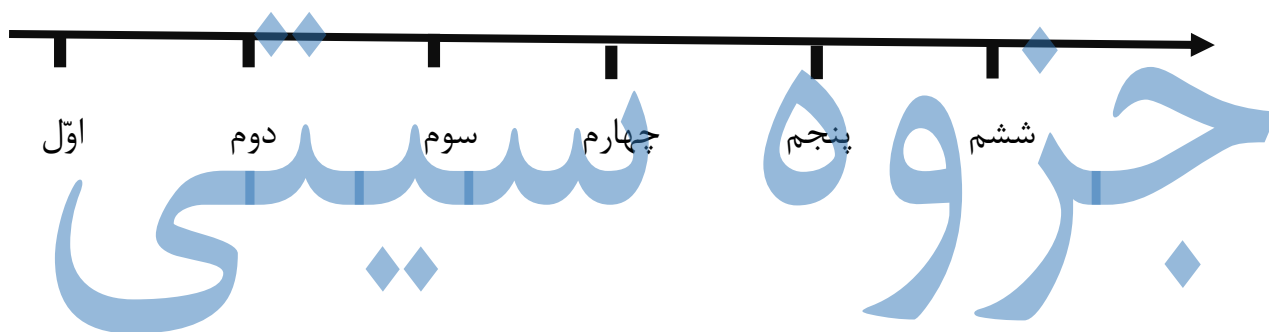


..... قسمت از قسمت

۱۱- در یک دبستان تعداد دانش آموزان کلاس اول تا ششم به صورت زیر است:

کلاس	اول	دوم	سوم	چهارم	پنجم	ششم
تعداد دانش آموزان	۷۳	۵۶	۴۸	۳۳	۶۱	۴۴
تعداد تقریبی						

ابتدا تعداد تقریبی دانش آموزان را در جدول بنویسید و سپس هر ۱۰ دانش آموز را با 😊 نشان دهید و نمودار زیر را کامل کنید.



دخترهای نازنین موفق باشید.

گرامی